

西方人的淡水紀行

探訪紅毛城、英國領事館、
理學堂大書院、馬偕故居、小白宮



蓋印章區

班級：____年____班

組員姓名：_____

【臺灣世界文化遺產潛力點】

〔淡水紅毛城及其週遭歷史建築群〕

西元十七世紀，大航海時代，臺灣就已經躍上國際舞台，經歷過三百多年的發展，而今成為我們共同的家鄉，位處北部的河港城市滬尾（淡水舊地名），原為平埔族凱達格蘭人居住範圍，歷經漢人墾拓，開港通商後成為西洋文化進入臺灣的門戶，西方的宗教、建築、醫療、教育等，皆以淡水為起點擴散至臺灣各處，尤以建築與人的活動影響深遠。淡水歷史區有很特殊的建築形式，靠河岸是商業及運輸設施；行政與防禦設施居高地；教育與宗教設施則設置於後方的山頂上，形塑特殊的聚落風格，符合世界遺產登錄標準。

淡水與歐洲傳教士、醫生、教育家、外交人員及商人有強烈的連結，其實質證據是淡水地區呈現的殖民風格建築，包括學校、城堡、領事館、歐僑富商、本地富商所形塑的都市形體。聚落與貿易港口的策略性地位，見證不同統治權力在“外地”做出影響世界的決定，同時也影響該區思考、信仰及傳統。因此，淡水紅毛城及其週遭歷史建築群於2003年，被提報列為「臺灣世界遺產潛力點」。

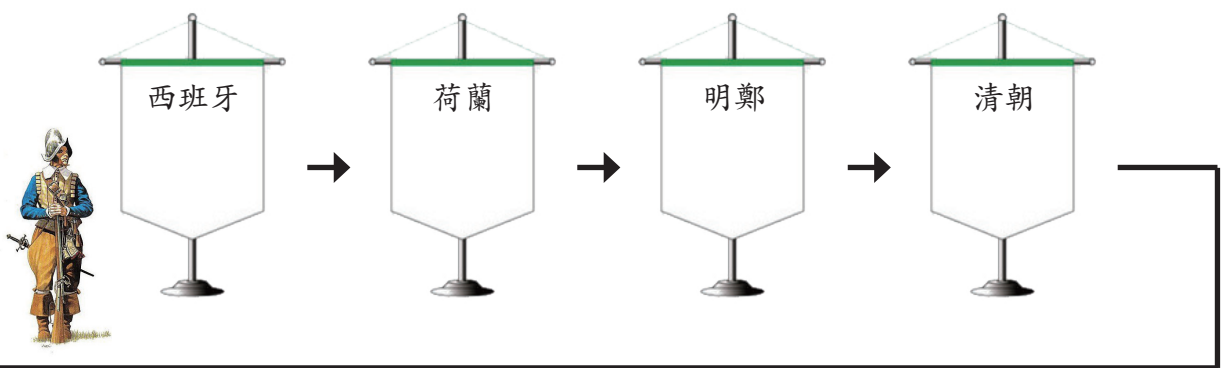

小朋友，請看看下面這張全臺灣各地被列入世界文化遺產的潛力點，請你數一數臺灣總共有幾個地點，被列入世界文化遺產潛力點？_____。請小組同學討論一下，曾經有去過的點請打勾，算一算小組同學曾經到訪過多少個潛力點？_____



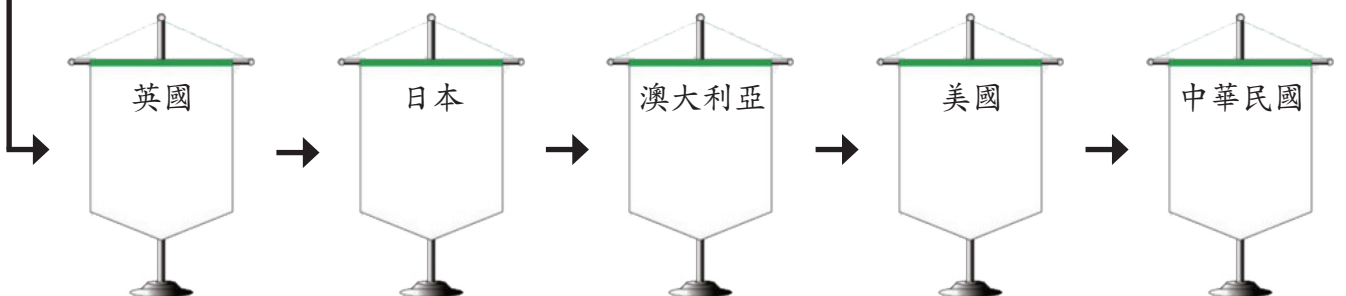
【紅毛城與英國領事館】

〔紅毛城的統治者〕

今日的紅毛城，創建於西元 1644 年，迄今已超過 370 年，這做屹立於淡水河口的城堡，曾歷經不同統治者的治理與修建，請你從紅毛城的建築與週邊，找出曾經管理過紅毛城的國家旗幟，並對照下列的旗幟代號，填入下方國家空格中。




請根據展場中的國旗順序，對照學習單的旗子代號，依序填入對應的國家空格中



【紅毛城與英國領事館】

〔紅毛城互動劇場～航向安東尼堡〕

請搜尋潛藏紅毛城中互動劇場，根據影片中的指示完成闖關活動。
小組同學請注意觀賞影片中的說明與介紹，並回答下列問題。



Q1. 淡水的舊地名為何？

Q2. 當年荷蘭人在淡水建造安東尼堡（今日紅毛城前身），主要是希望以臺灣為基地，與東亞哪幾個地方互通貿易？

Q3. 淡水於西元幾年對外國開港通商？並帶動臺灣北部哪兩個地方的繁榮發展？

Q4. 從荷蘭人建造的安東尼堡
請問這座城堡在建築外觀
有哪些改變？



到英國人改建的紅毛城，



我發現的改變 1：

我發現的改變 2：


Q5. 請在下方的圖框中，
畫出「荷蘭東印度公司」的標誌。



Q6. 請在紅毛城展場中找到「荷蘭人佔領臺灣全島」
的展示版，並回答下面的歷史提問？

西元 1642 年荷蘭人打敗西班牙人，成為臺灣島上唯一的武力強權後，除積極發展貿易外，為有效統治原住民部落，因而創立何種制度？並藉由每年舉辦一次這個活動，將各社領有 voc 字樣權杖的長老，聚集在大員開會宣導各項政令，並要求他們效忠。

制度名稱：_____



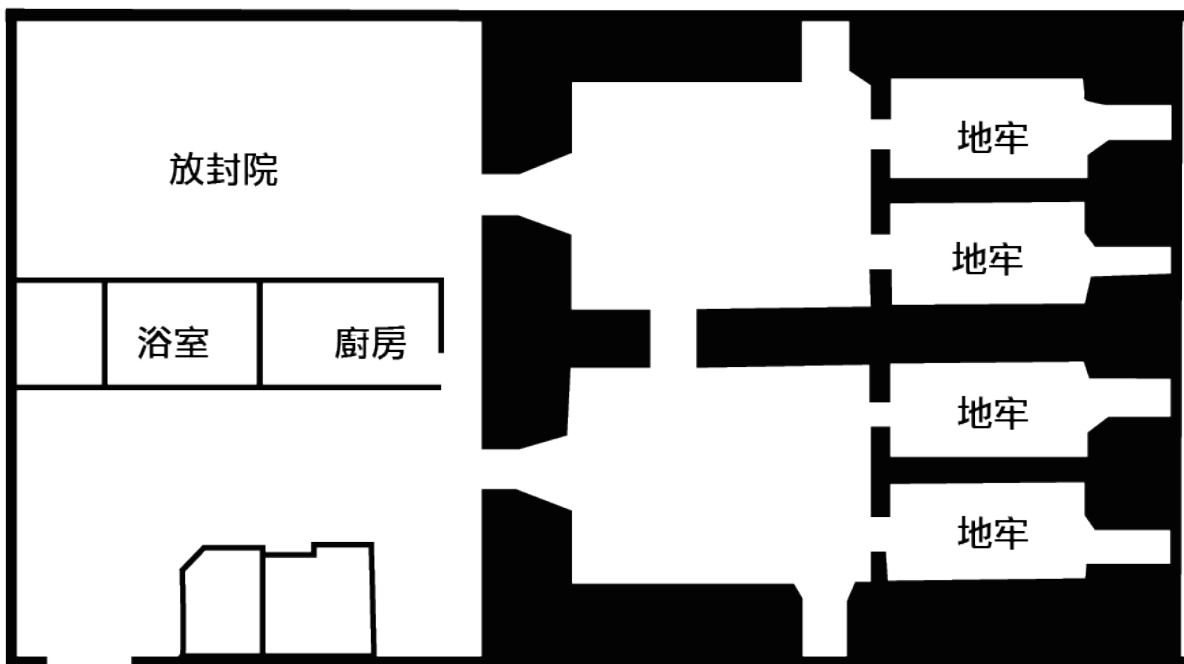
荷蘭人統治臺灣期間，召集原住民族長老到大員開會。



【紅毛城與英國領事館】

〔紅毛城的地牢〕

在紅毛城裡，發現了一些五官輪廓與臺灣不同的人物塑像，似乎是犯了罪而被關進地牢，請在紅毛城所屬的地牢裡，搜尋被監禁在這裡的外國人，並將他們的所在位置，在下方的地牢平面圖中，以三角形的記號標示出來。



為什麼這些人會被關在這裡呢？請仔細尋找紅毛城裡的建築模型，找出可以觸動說明的影片，了解是因為清朝與英國簽定哪個章程？


章程中記載「華英人民訴訟，雙方官吏合審，各按本國法律治罪」於是領事館便有了逮捕、審判的權限。因此，在臺灣犯罪的英國人，也就不受清朝政府的審判，而是由英國人自行審判與監禁。



【紅毛城與英國領事館】

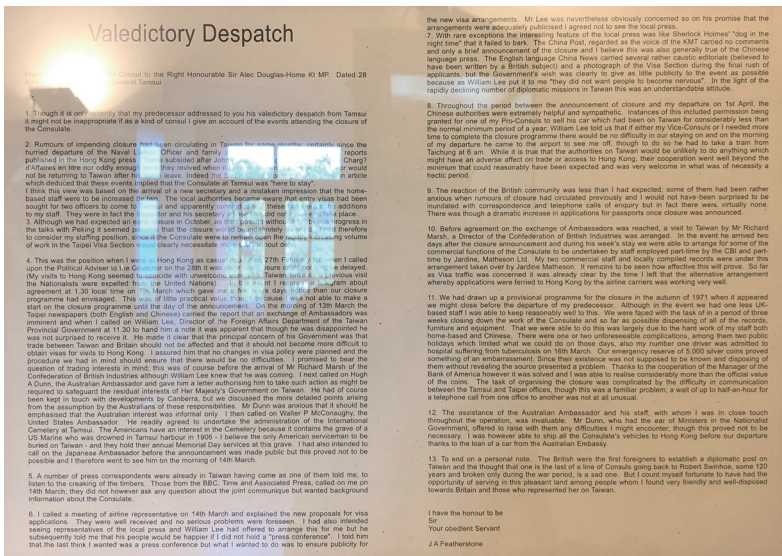
〔砲城改為英國領事館〕

西元 1863 年英國副領事郇和，向清朝政府提出租用淡水紅毛城，租期 99 年，紅毛城就此由軍用地轉而成為外交場域，並成為英國領事的辦公場所。英國也成為最早在臺灣設立領事的西方國家，請你在紅毛城展場中找到以下兩個留存的設備，並寫下這個設備的名稱。



設備名稱：_____

設備名稱：_____



〔砲城改為英國領事館〕

西元 1972 年，英國最後一位在臺領事費德史東，於 4 月 28 日向英國外交大臣發了最後一封電文（如左圖），在這封電文的最後一段領事寫下對臺灣的感受，請問他對臺灣有何感受？（複選題，請勾選）

- 臺灣人民親切和善
- 臺灣排斥西方人士
- 熱情相待英國人民

可參考展場中的中譯本第 13 點

【紅毛城與英國領事館】

〔美麗的红磚建築〕

英國領事官邸建於 1891 年，這座二層樓磚造建築，是由英國建築師設計、中國技師施工，並運用中國建材，紅磚樓、拱圈迴廊、斜屋頂和高台階等成功表現出典型殖民地建築的特色。


這座官邸正門外磚牆上有 12 幅磚雕，其中有幾幅磚雕是以英格蘭，與蘇格蘭國的國花共同設計而成，請在展場中找出相關說明告示牌，並勾選正確的花朵名稱？玫瑰 薊花 薔薇 牡丹



在英國領事館的正面磚牆上，除了以國花作為裝飾的磚雕外，還有以建造年代與當時英國女王維多利亞縮寫的圖案，製作而成的磚雕，請在展場中找到這片磚雕，並於左邊構圖中寫下年代數字與英語字母。



維多利亞女王
Queen Victoria




〔樣式多變的磁磚〕

走進領事館中，可以發現在一百多年前，這座洋樓建築就已鋪上兼具美觀與耐用的磁磚，請你在領事館中找一找，有哪些室內空間地板鋪上色彩鮮豔與樣式多變的地磚？請在下方地點中勾選（複選題）

- 客廳 餐廳 臥室 書房
廚房 廁所 其他_____

請你找出其中最美麗的一塊地磚並將其形狀，繪製於右邊圖框中。



【理學堂大書院】

〔中西合併的學校建築〕

牛津學堂於 1882 年 9 月完工，成為全臺第一所新式教育的學校。當時學生都是各地方傳教士推薦之優秀青年。課程包括聖經、醫療、化學、物理學、地質學、地文學、動物學、體操等科目，由於西方科學知識與學問剛傳進臺灣，在當時漢學仍是主要的學識來源，馬偕為避免遭到地方仕紳抵制，並順利推動西學教育，因此，這座學校的建築就格外思考中西合併的概念，請你仔細觀察理學堂大書院的外觀，找出中西交融的樣式，並紀錄在下方欄位。

耶穌說：撒種在好土裏的，

請在入口處找出這段聖經，
並將後面一句話填入。



中西樣式找一找	傳統臺灣形式	西方文明樣式
校名		
建造日期		
建築體		
顏色		
其他		

進入到理學堂大書院後，會發現有一面國旗在正前方，請問這是哪一國的國旗？同時也是馬偕博士的出生地國家。

國家名稱：_____

進入這座書院後，會看見許多老照片，請你認真、安靜的參觀喔！




【馬偕故居】

〔馬偕的家〕

馬偕故居是馬偕博士在 1875 年所建，他於此結婚生子，也在此臨終，馬偕親自設計督工建造這做房子的，所需建材主要由廈門購入。請你參考入口處的解說牌，這座房子的建造樣式，有個特殊的洋樓名稱



1872 年 3 月 9 日下午 3 時，馬偕在淡水登岸，開始他在臺灣不平凡的一生，請你參觀馬偕故居內的各主題，並寫下馬偕在臺灣的大半輩子，曾參與哪些工作、事業或努力的事情，請在下方圓圈處填入 5 個項目。



〔春風化雨〕

馬偕的中文姓名：_____

第一個信徒與學生姓名：_____



【前清淡水總稅務司官邸】

〔淡水古蹟建築〕

請透過展場中的互動式說明地圖，將地圖上的5個淡水古蹟名稱寫下來。

①古蹟名稱：_____ ②古蹟名稱：_____

③古蹟名稱：_____ ④古蹟名稱：_____

⑤古蹟名稱：_____



請根據互動式地圖說明，查閱關於殖民地式建築之特徵，並請於下列選項中將符合的特色勾選起來（複選題）。

- 抬高地基
- 四周有類似迴廊之涼台
- 落地門窗
- 安裝煙囪
- 設立游泳池
- 開闢高爾夫球場

仔細觀察小白宮符合幾個特徵呢？

小白宮面對觀音山的正門與中庭有兩個植物的介紹，一個是百年英國人栽種的花，俗稱雞蛋花，請寫下這棵樹的名稱：

在迴廊外有一排有一排種植數十餘年的樹種，雖然有些已傾斜，但依然展現蓬勃的生命力，這個樹種的名稱：
